







ВСЕРОССИЙСКИЙ
ДИСТАНЦИОННЫЙ КОНКУРС
ДЛЯ УЧЕНИКОВ НАЧАЛЬНЫХ
КЛАССОВ "НАУКОГРАД"

 ngkonkurs.ru

 naukograd-konkurs@mail.ru

 +7 (3852) 25-19-93

 vk.com/naukogradkonkurs

ПРИМЕРЫ ЗАДАНИЙ

МАТЕМАТИКА

1 КЛАСС

1. Какое выражение подходит к рисунку?



- А) $3 - 1$
- Б) $5 + 2$
- В) $2 + 3$
- Г) $6 - 2$

2. Какое число можно вставить в «окошко», чтобы неравенство стало верным?

$$4 + \bigcirc < 6$$

- А) 1
- Б) 2
- В) 3
- Г) никакое

3. Я стою в очереди предпоследним, а впереди меня стоят ещё 3 человека. Сколько всего человек в очереди?

- А) 4 человека
- Б) 5 человек

- В) 6 человек
- Г) 7 человек

4. Алёша и Денис носят кепки, а Олег шапку. У Дениса и Олега головные уборы чёрные, а у Алёши – серый. Кто носит чёрную кепку?

- А) Олег
- Б) Алёша
- В) Денис
- Г) Игорь

5. У Маши и Даши фломастеров поровну. Маша отдала Даше 5 фломастеров. На сколько фломастеров теперь больше у Даши?

- А) на 5 фломастеров
- Б) на 10 фломастеров
- В) на 1 фломастер
- Г) на 2 фломастера